

نوٹ: ہر سوال کے چار ممکنہ جوابات A، B، C اور D دیئے گئے ہیں۔ جو اپنی پر ہر سوال کے سامنے دیئے گئے دائروں میں سے درست جواب کے مطابق متعلقہ دائرہ کو مارکر یا پین سے بھر دیجئے۔ ایک سے زیادہ دائروں کو پُر کرنے یا کاٹ کر پُر کرنے کی صورت میں مذکورہ جواب غلط تصور ہوگا۔

1- Factors of $5x^2 - 17xy - 12y^2$ are

(A) $(x + 4y), (5x + 3y)$ (B) $(x - 4y), (5x - 3y)$ (C) $(x - 4y), (5x + 3y)$ (D) $(5x - 4y), (x + 3y)$

2- In a parallelogram diagonals intersect each other in the ratio _____

(A) 1 : 4 (B) 2 : 1 (C) 1 : 3 (D) 1 : 1

3- A triangle having two sides congruent is called _____

(A) scalene مختلف الاضلاع (B) قائمہ الزاویہ right angled (C) متساوی الساقین isosceles (D) متساوی الساقین

4- If $(x - 1, y + 1) = (0, 0)$, then (x, y) is equal to

(A) $(1, 1)$ (B) $(-1, 1)$ (C) $(1, -1)$ (D) $(-1, -1)$

5- H.C.F. of $a^3 + b^3$ and $a^2 - ab + b^2$ is _____

(A) $a + b$ (B) $a^2 - ab + b^2$ (C) $(a - b)^2$ (D) $a^2 + b^2$

6- Bisection means to divide into _____ equal parts.

(A) 5 (B) 4 (C) 3 (D) 2

7- A ray has _____ end point/points.

(A) 1 (B) 2 (C) 3 (D) 4

8- The order of matrix $\begin{bmatrix} 2 & 1 \end{bmatrix}$ is _____

(A) $2-by-1$ (B) $1-by-2$ (C) $1-by-1$ (D) $2-by-2$

9- $\log_b a \times \log_c b$ can be written as _____

(A) $\log_a c$ (B) $\log_c a$ (C) $\log_a b$ (D) $\log_b c$

10- Mid-point of the points $(2, -2)$ and $(-2, 2)$ is _____

(A) $(2, 2)$ (B) $(-2, -2)$ (C) $(0, 0)$ (D) $(1, 1)$

11- $x = \frac{3}{2}$ is a solution of the inequality $-2 < x < \frac{3}{2}$

(A) -5 (B) 3 (C) 0 (D) $\frac{3}{2}$

12- If $a, b \in \mathbb{R}$, then only one of $a = b$ or $a < b$ or $a > b$ holds, it is called as _____

(A) trichotomy property ثلاثی خاصیت (B) متعدیت خاصیت transitive property (C) جمعیت خاصیت additive property (D) ضربی خاصیت multiplicative property

13- $(4x + 3y - 2)$ is an algebraic _____

(A) جملہ expression (B) فقرہ sentence (C) مساوات equation (D) غیر مساوات inequality

14- Equality of two ratios is called _____

(A) نسبت ratio (B) متکوس inverse (C) تناسب proportion (D) متشابه similar

15- Similar figures have same _____

(A) رقبہ area (B) شکل shape (C) اطراف perimeters (D) سائز size

نوٹ: حصہ اول لازمی ہے۔ حصہ دوم میں سے تین (3) سوالات حل کیجئے۔ تاہم سوال نمبر نو (9) لازمی ہے۔

Section I حصہ اول

2- Write short answers to any SIX questions:

(2 x 6 = 12)

2- کوئی سے چھ (6) سوالات کے مختصر جوابات تحریر کیجئے۔

i- Define square matrix.

i- مربعی قالب کی تعریف کیجئے۔

ii- Find the transpose of the matrix $E = \begin{bmatrix} 2 & 3 \\ -4 & 5 \end{bmatrix}$

ii- قالب $E = \begin{bmatrix} 2 & 3 \\ -4 & 5 \end{bmatrix}$ کا ٹرانسپوز قالب معلوم کیجئے۔

iii- Simplify: $\sqrt[5]{\frac{3}{32}}$

iii- $\sqrt[5]{\frac{3}{32}}$ کو مختصر کیجئے۔

iv- Write real and imaginary parts of the number $-2 - 2i$.

iv- عدد $-2 - 2i$ کے حقیقی اور امیجنری حصے لکھئے۔

v- Express 0.0074 in scientific notation.

v- 0.0074 کو سائنسی ترقیم میں لکھئے۔

vi- Find the value of x when $\log_{64} 8 = \frac{x}{2}$

vi- x کی قیمت معلوم کیجئے جبکہ $\log_{64} 8 = \frac{x}{2}$

vii- Evaluate: $\frac{3x^2\sqrt{y}+6}{5(x+y)}$ if $x = -4$, $y = 9$

vii- $\frac{3x^2\sqrt{y}+6}{5(x+y)}$ کی قیمت معلوم کیجئے جبکہ $x = -4$, $y = 9$

viii- Rationalize the denominator: $\frac{\sqrt{3}-1}{\sqrt{3}+1}$

viii- مخرج کو ناممکن بنائیے: $\frac{\sqrt{3}-1}{\sqrt{3}+1}$

ix- Factorize: $5x^2 - 16x - 21$

ix- $5x^2 - 16x - 21$ کی تجزی کیجئے۔

3- Write short answers to any SIX questions:

(2 x 6 = 12)

3- کوئی سے چھ (6) سوالات کے مختصر جوابات تحریر کیجئے۔

i- Define L.C.M.

i- ذواضعاف اقل کی تعریف کیجئے۔

ii- Solve the equation $\sqrt[3]{3x+5} = \sqrt[3]{x-1}$

ii- مساوات $\sqrt[3]{3x+5} = \sqrt[3]{x-1}$ کو حل کیجئے۔

iii- Solve: $|3x - 5| = 4$

iii- $|3x - 5| = 4$ کو حل کیجئے۔

iv- Find the value of m and c of $2x + 3y - 1 = 0$ by expressing it in the form of $y = mx + c$.

iv- $2x + 3y - 1 = 0$ کو $y = mx + c$ میں ظاہر کرنے کے بعد m اور c کی قیمت معلوم کیجئے۔

v- Define cartesian plane.

v- کارٹیسائی مستوی کی تعریف کیجئے۔

vi- Find the distance between the points A(9, 2), B(7, 2).

vi- نقاط A(9, 2), B(7, 2) کے درمیان فاصلہ معلوم کیجئے۔

vii- Define scalene triangle.

vii- مختلف الاضلاع مثلث کی تعریف کیجئے۔

viii- State S.A.S. postulate.

viii- ض-ض-ض موضوع بیان کیجئے۔

ix- One angle of a parallelogram is 130° . Find the measures of its remaining angles.

ix- اگر ایک متوازی الاضلاع کا ایک زاویہ 130° کا ہو تو اس کے باقی زاویوں کی مقداریں معلوم کیجئے۔

4- Write short answers to any SIX questions:

(2 x 6 = 12)

4- کوئی سے چھ (6) سوالات کے مختصر جوابات تحریر کیجئے۔

i- If \overline{CD} is right bisector of line segment \overline{AB} ,

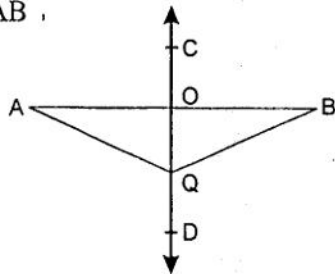
i- اگر \overline{CD} قطعہ خط \overline{AB} کا عمودی ناقص

then $m\overline{OA} =$ _____

ہو تو $m\overline{OA} =$ _____

$m\overline{AQ} =$ _____

$m\overline{AQ} =$ _____



ii- If 13 cm, 12 cm, and 5 cm are lengths of a triangle then verify that difference of measures of any two sides of a triangle is less than the measure of third side.

ii- اگر ایک مثلث کے اضلاع کی لمبائیاں 13 cm، 12 cm اور 5 cm ہوں تو تصدیق کیجئے کہ مثلث کے دو اضلاع کی لمبائیوں کا فرق تیسرے ضلع کی لمبائی سے کم ہوتا ہے۔

iii- Define a proportion.

iii- تناسب کی تعریف کیجئے۔

(درج لکھئے)

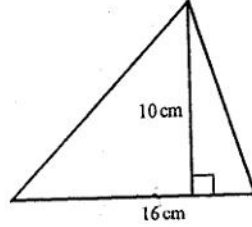
19-1-1-1-1-1

iv- What is meant by pythagorus theorem.

v- Verify that triangle having measure of a sides is right angled triangle: $a = 9 \text{ cm}$, $b = 12 \text{ cm}$, $c = 15 \text{ cm}$

vi- Define interior of a triangle.

vii- Find the area of a given figure.



iv- مسئلہ فیثا غورث سے کیا مراد ہے؟

v- تصدیق کیجئے کہ پانچوں قائمہ الزاویہ مثلث کی ہیں:

$a = 9 \text{ cm}$, $b = 12 \text{ cm}$, $c = 15 \text{ cm}$

vi- مثلث کے اندرون کی تعریف کیجئے۔

vii- دی گئی شکل کا رقبہ معلوم کیجئے۔

viii- Construct a ΔABC in which

$m \overline{AB} = 3.2 \text{ cm}$, $m \overline{BC} = 4.2 \text{ cm}$, $m \overline{CA} = 5.2 \text{ cm}$

ΔABC بنائیے جس میں

ix- Define incentre of the triangle.

ix- مثلث کے اندرونی مرکز کی تعریف کیجئے۔

حصہ دوم Section II (ہر سوال کے 8 نمبر اور ہر جزو کے 4 نمبر ہیں)

5- (a) Solve the system of linear equations by Cramer's rule:

$$3x - 2y = -6$$

$$5x - 2y = -10$$

5- (الف) دی گئی لینیئر مساواتوں کو کریر کے قانون کی مدد سے حل کیجئے:

$$3x - 2y = -6$$

$$5x - 2y = -10$$

(b) Simplify:

$$\sqrt{\frac{(216)^{\frac{2}{3}} \times (25)^{\frac{1}{2}}}{(0.04)^{\frac{-3}{2}}}}$$

$$\sqrt{\frac{(216)^{\frac{2}{3}} \times (25)^{\frac{1}{2}}}{(0.04)^{\frac{-3}{2}}}} \quad \text{(ب) مختصر کیجئے:}$$

6- (a) Use log table to find the value of

$$\frac{0.678 \times 9.01}{0.0234}$$

6- (الف) لوگ ٹیبل کی مدد سے قیمت معلوم کیجئے:

$$\frac{0.678 \times 9.01}{0.0234}$$

(b) If $x + y + z = 12$ and $x^2 + y^2 + z^2 = 64$, then find the value of $xy + yz + zx$.

(ب) اگر $x + y + z = 12$ اور $x^2 + y^2 + z^2 = 64$ ہو تو $xy + yz + zx$ کی قیمت معلوم کیجئے۔

7- (a) If $(x - 1)$ is a factor of $x^3 - kx^2 + 11x - 6$, then find the value of k .

7- (الف) اگر $(x - 1)$ کثیر رقمی $x^3 - kx^2 + 11x - 6$ کا

جزو ضربی ہو تو k کی قیمت معلوم کیجئے۔

(b) Use division method to find the square root of

$$4x^4 + 12x^3 + x^2 - 12x + 4$$

(ب) الجبری جملہ $4x^4 + 12x^3 + x^2 - 12x + 4$ کا

چذرا المربع بذریعہ تقسیم معلوم کیجئے۔

8- (a) Solve the equation:

$$\frac{2}{x^2-1} - \frac{1}{x+1} = \frac{1}{x+1}$$

8- (الف) مساوات کو حل کیجئے:

$$\frac{2}{x^2-1} - \frac{1}{x+1} = \frac{1}{x+1}$$

(b) Construct the ΔPQR . Also draw its altitudes:

$m \overline{PQ} = 6 \text{ cm}$, $m \overline{QR} = 4.5 \text{ cm}$, $m \overline{PR} = 5.5 \text{ cm}$

(ب) مثلث PQR بنائیے۔ اس کے عمود (ارتفاع) بھی کھینچئے:

9- Prove that any point on the right bisector of a line segment is equidistant from its end points.

9- ثابت کیجئے کہ اگر ایک نقطہ کسی قطعہ خط کے عمودی ناصف پر واقع ہو تو وہ نقطہ قطعہ خط کے سروں سے مساوی الفاصلہ ہوگا۔

OR

یا

Prove that the triangles on the same base and of the same (i.e. equal) altitudes are equal in area.

ثابت کیجئے کہ ایسی مثلثیں جو ایک ہی قاعدہ پر واقع ہوں اور ان کے ارتفاع برابر ہوں تو وہ رقبہ میں برابر ہوں گی۔

نوٹ: ہر سوال کے چار ممکنہ جوابات A، B، C اور D دیئے گئے ہیں۔ جوابی کاپی پر ہر سوال کے سامنے دیئے گئے دائروں میں سے درست جواب کے مطابق متعلقہ دائرہ کو مارکر یا پین سے بھر دیجئے۔ ایک سے زیادہ دائروں کو پُر کرنے یا کاٹ کر پُر کرنے کی صورت میں مذکورہ جواب غلط تصور ہوگا۔

- 1- 1- In a parallelogram opposite angles are _____
 1- متوازی الاضلاع کے مخالف زاویے _____ ہوتے ہیں۔
 (A) congruent متماثل (B) parallel متوازی (C) concurrent ہم نقطہ (D) non-congruent غیر متماثل
- 2- The capacity 'c' of an elevator is at most _____
 2- ایک لفٹ کی بوجھ اٹھانے کی استعداد 'c' زیادہ سے زیادہ 1600 پاؤنڈ ہو تو
 1600 pounds, then
 (A) $c < 1600$ (B) $c \leq 1600$ (C) $c > 1600$ (D) $c \geq 1600$
- 3- The sign of ratio is _____
 3- نسبت کی علامت _____ ہے۔
 (A) = (B) : (C) :: (D) ||
- 4- Mid-point of the points (2, 2) and (0, 0) is _____
 4- نقاط (2, 2) اور (0, 0) کا درمیانی نقطہ _____ ہے۔
 (A) (1, 1) (B) (1, 0) (C) (0, 1) (D) (-1, -1)
- 5- $\log e =$ _____ where ($e \approx 2.718$)
 5- $\log e =$ _____ جبکہ ($e \approx 2.718$)
 (A) 0 (B) ∞ (C) 1 (D) 0.4343
- 6- The medians of a triangle cut each other in the ratio _____
 6- مثلث کے وسطیے ایک دوسرے کو _____ کی نسبت میں قطع کرتے ہیں۔
 (A) 4 : 1 (B) 3 : 1 (C) 2 : 1 (D) 1 : 1
- 7- $\frac{a^2 - b^2}{a + b}$ is equal to _____
 7- $\frac{a^2 - b^2}{a + b}$ برابر ہے۔
 (A) $(a - b)^2$ (B) $a^2 - b^2$ (C) $a - b$ (D) $a + b$
- 8- Order of transpose of $\begin{bmatrix} 2 & 1 \\ 0 & 1 \\ 3 & 2 \end{bmatrix}$ is _____
 8- $\begin{bmatrix} 2 & 1 \\ 0 & 1 \\ 3 & 2 \end{bmatrix}$ کے ٹرانسپوز قالب کا درجہ ہے۔
 (A) 3-by-2 (B) 2-by-3 (C) 1-by-3 (D) 3-by-1
- 9- Factors of $5x^2 - 17xy - 12y^2$ are _____
 9- $5x^2 - 17xy - 12y^2$ کے اجزائے ضربی _____ ہیں۔
 (A) $(x + 4y), (5x + 3y)$ (B) $(x - 4y), (5x + 3y)$ (C) $(x - 4y), (5x - 3y)$ (D) $(5x - 4y), (x + 3y)$
- 10- Which ordered pair satisfies the equation $y = 2x$?
 10- کونسا نقطہ مساوات $y = 2x$ کے گراف پر واقع ہے؟
 (A) (1, 2) (B) (2, 1) (C) (2, 2) (D) (0, 1)
- 11- The region enclosed by the bounding lines of a closed figure is called _____
 11- کسی بند شکل کی حد بندی کرنے والے قطعات خط جس کا احاطہ کرتے ہیں وہ شکل کا _____ کہلاتا ہے۔
 (A) حجم (B) رقبہ (C) لمبائی (D) چوڑائی
- 12- What should be added to complete the square of $x^4 + 64$?
 12- جملہ $x^4 + 64$ میں کیا جمع کیا جائے کہ مکمل مربع بن جائے؟
 (A) $8x^2$ (B) $-8x^2$ (C) $16x^2$ (D) $4x^2$
- 13- $\left(\frac{25}{16}\right)^{-\frac{1}{2}} =$ _____
 13- $\left(\frac{25}{16}\right)^{-\frac{1}{2}} =$ _____
 (A) $\frac{5}{4}$ (B) $\frac{4}{5}$ (C) $-\frac{5}{4}$ (D) $-\frac{4}{5}$
- 14- Bisection means to divide into _____ equal parts.
 14- لفظ تہیف سے مراد _____ برابر حصوں میں تقسیم کرنا ہوتا ہے۔
 (A) 2 (B) 3 (C) 4 (D) 5
- 15- In two triangles for (1-1) correspondence symbol used is _____
 15- دو مثلثوں کے درمیان (1-1) مطابقت کیلئے نشان _____ استعمال ہوتا ہے۔
 (A) = (B) \cong (C) \leftrightarrow (D) \sim

نوٹ : حصہ اول لازمی ہے۔ حصہ دوم میں سے تین (3) سوالات حل کیجئے۔ تاہم سوال نمبر نو (9) لازمی ہے۔

Section I حصہ اول

(2 x 6 = 12)

2- Write short answers to any SIX questions:

i- Define zero matrix with an example.

ii- If $A = \begin{bmatrix} 1 & 2 \\ 0 & 1 \end{bmatrix}$, then verify that $(A^t)^t = A$

iii- Define terminating decimal fractions.

iv- Simplify $\left(\frac{8}{125}\right)^{-4}$ by using laws of indices.v- Find the value of x in $\log_3 x = 5$ vi- Express 9.018×10^{-6} in ordinary notation.vii- Express $\frac{3}{4} \sqrt[3]{128}$ in the simplest form.

viii- Define polynomial with an example.

ix- Factorize: $144a^2 + 24a + 1$

3- Write short answers to any SIX questions:

(2 x 6 = 12)

i- Find H.C.F. of $91x^5y^6z^7$ and $39x^7y^3z$.ii- Solve: $\sqrt{3x+4} = 2$ iii- Solve: $\frac{1}{2}|3x+2|-4 = 11$ iv- Find the value of 'm' and 'c' of the line $x - 2y = -2$ by expressing it in the form of $y = mx + c$.v- Verify whether the point (0, 0) lies on the line $2x - y + 1 = 0$ or not

vi- Find the distance between pair of points A(9,2) and B(7,2).

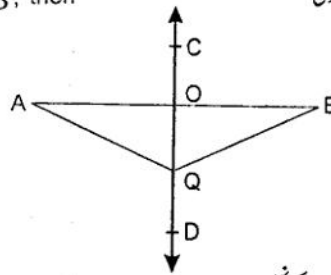
vii- Find the mid-point of the line segment joining A(-8,1) and B(6,1)

viii- Define S.S.S. postulate.

ix- One angle of a parallelogram is 130° . Find measure of its remaining angles.

4- Write short answers to any SIX questions:

(2 x 6 = 12)

i- If \overline{CD} is right bisector of line segment \overline{AB} , then find $m\overline{OA}$ and $m\overline{AQ}$ 

ii- Explain that the given lengths can be the sides of a triangle or not: 2 cm, 4 cm, 7 cm

iii- Define congruent triangles.

(درق لائے)

2- کوئی سے چھ (6) سوالات کے مختصر جوابات تحریر کیجئے۔

i- صفری ماتریب کی مثال دے کر تعریف کیجئے۔

ii- اگر $A = \begin{bmatrix} 1 & 2 \\ 0 & 1 \end{bmatrix}$ ، ہو تو ثابت کیجئے کہ $(A^t)^t = A$

iii- اختتام پذیر اعشاری ہائے اعداد کی تعریف کیجئے۔

iv- $\left(\frac{8}{125}\right)^{-4}$ کو قوت نما کے قوانین کی مدد سے مختصر کیجئے۔v- $\log_3 x = 5$ میں x کی قیمت معلوم کیجئے۔vi- 9.018×10^{-6} کو عام ترقیم میں لکھئے۔vii- مقدار اسم $\frac{3}{4} \sqrt[3]{128}$ کو مختصر ترین شکل میں لکھئے۔

viii- کثیر رقمی کی مثال دے کر تعریف کیجئے۔

ix- $144a^2 + 24a + 1$ کی تجزی کیجئے۔

3- کوئی سے چھ (6) سوالات کے مختصر جوابات تحریر کیجئے۔

i- $91x^5y^6z^7$ اور $39x^7y^3z$ کا عاوا عظم معلوم کیجئے۔ii- $\sqrt{3x+4} = 2$ کا حل سیٹ معلوم کیجئے۔iii- $\frac{1}{2}|3x+2|-4 = 11$ کا حل سیٹ معلوم کیجئے۔iv- مساوات $x - 2y = -2$ کو $y = mx + c$ میں ظاہر کرنے کے بعد 'm' اور 'c' کی قیمت معلوم کیجئے۔v- تصدیق کیجئے کہ کیا نقطہ (0, 0) لائن $2x - y + 1 = 0$ پر واقع ہے یا نہیں۔

vi- دو نقاط A(9,2) اور B(7,2) کے درمیان فاصلہ معلوم کیجئے۔

vii- دو نقاط A(-8,1) اور B(6,1) سے بننے والے قطع خط کا درمیانی نقطہ معلوم کیجئے۔

viii- ض-ض-ض کا موضوع بیان کیجئے۔

ix- متوازی الاضلاع کا ایک زاویہ 130° ہے۔ باقی زاویوں کی مقداریں معلوم کیجئے۔

4- کوئی سے چھ (6) سوالات کے مختصر جوابات تحریر کیجئے۔

i- دی گئی شکل میں اگر \overline{CD} قطعہ خط \overline{AB} کا عمودیناصف ہو تو $m\overline{OA}$ اور $m\overline{AQ}$ کی قیمت معلوم کیجئے۔

ii- وضاحت کیجئے کہ دی گئی لمبائیوں سے مثلث بنائی جا سکتی ہے کہ نہیں:

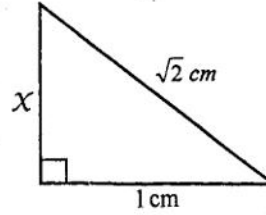
2 cm, 4 cm, 7 cm

iii- متماثل مثلثان کی تعریف کیجئے۔

GUT-2-19

GVI-2-19 (2)

iv- Find the value of x in the given figure:

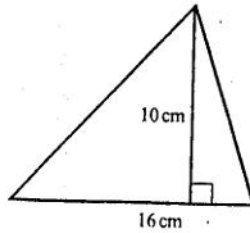


دی گئی شکل میں x کی قیمت معلوم کیجئے۔

v- Verify that the triangle having following sides is a right angled: a = 9 cm, b = 12 cm, c = 15 cm.

تصدیق کیجئے کہ مندرجہ ذیل اضلاع کی لمبائیوں والی مثلث قائمہ الزاویہ ہے۔
a = 9 cm, b = 12 cm, c = 15 cm

vi- Find the area of the given figure:



دی گئی شکل کا رقبہ معلوم کیجئے۔

vii- Define rectangular region.

مستطیلی رقبہ کی تعریف کیجئے۔

viii- Construct ΔABC in which

مثلث ABC بنائیے جبکہ

$$m\overline{AB} = 4.8 \text{ cm}, \quad m\overline{BC} = 3.7 \text{ cm}, \quad m\angle B = 60^\circ$$

ix- Define orthocentre.

عمودی مرکز (آرتھوسنٹر) کی تعریف کیجئے۔

حصہ دوم Section II (ہر سوال کے 8 نمبر اور ہر جزو کے 4 نمبر ہیں)

5- (a) Solve by using matrix inversion method:

$$2x + y = 3 \quad ; \quad 6x + 5y = 1$$

5- (الف) تاہوں کے معکوس کی مدد سے حل کیجئے:

$$2x + y = 3 \quad ; \quad 6x + 5y = 1$$

(b) Simplify: $\left(\frac{a^{2l}}{a^{l+m}}\right) \left(\frac{a^{2m}}{a^{m+n}}\right) \left(\frac{a^{2n}}{a^{n+l}}\right)$

(ب) کو مختصر کیجئے۔

6- (a) Prove that: $\log_a \left(\frac{m}{n}\right) = \log_a m - \log_a n$

6- (الف) ثابت کیجئے کہ $\log_a \left(\frac{m}{n}\right) = \log_a m - \log_a n$

(b) Simplify: $\frac{1}{x-1} - \frac{1}{x+1} - \frac{2}{x^2+1} - \frac{4}{x^4-1}$

(ب) مختصر کیجئے:

7- (a) Factorize: $x^4 + \frac{1}{x^4} - 3$

7- (الف) $x^4 + \frac{1}{x^4} - 3$ کی تجزیہ کیجئے۔

(b) Find the square root by division method:

$$4x^4 + 12x^3 + x^2 - 12x + 4$$

(ب) بذریعہ تقسیم جذر معلوم کیجئے:

$$4x^4 + 12x^3 + x^2 - 12x + 4$$

8- (a) Solve the inequality: $3 \geq \frac{7-x}{2} \geq 1$

8- (الف) غیر مساوات کو حل کیجئے: $3 \geq \frac{7-x}{2} \geq 1$

(b) Construct the ΔABC and draw bisectors of its angles:

(ب) مثلث ABC بنائیے اور اس کے زاویوں کے ناصف کیجئے۔

$$m\overline{AB} = 4.5 \text{ cm}, \quad m\overline{BC} = 3.1 \text{ cm}, \quad m\overline{CA} = 5.2 \text{ cm}$$

9- Prove that any point inside an angle, equidistant from its arms, is on the bisector of it.

9- ثابت کیجئے کہ اگر کسی زاویے کے اندرون میں کوئی ایک نقطہ اس کے بازوؤں سے مساوی الفاصلہ ہو تو وہ نقطہ اس زاویے کے ناصف پر واقع ہوتا ہے۔

OR

Prove that the triangles on the same base and of the same (i.e. equal) altitudes are equal in area.

ثابت کیجئے کہ ایسی مثلثیں جو ایک ہی قاعدہ پر واقع ہوں اور ان کے ارتفاع برابر ہوں تو وہ رقبہ میں برابر ہوں گی۔